

# এইচ এস সি পরীক্ষা ২০২০ এর মডেল প্রশ্ন (সকল বোর্ড এর জন্য)

বিষয় : গার্হস্থ্য বিজ্ঞান : প্রথম পত্র (সৃজনশীল) বিষয় কোড : 

২	৭	৩
---	---	---

সময় — ২ ঘণ্টা ৩৫ মিনিট

পূর্ণমান — ৫০

দ্রষ্টব্য : ডানপাশের সংখ্যা প্রশ্নের পূর্ণমানজ্ঞাপক। যেকোনো ৫ টি প্রশ্নের উত্তর দাও।

## ক - বিভাগ (গৃহব্যবস্থাপনা ও গৃহায়ন)

১.▶ আলিজ সাহেব একটি কোম্পানিতে চাকরি করেন। কোম্পানির লক্ষ্য অর্জনের ক্ষেত্রে তিনি বিভিন্ন কার্যপদ্ধতি অবলম্বন করেন। তিনি কিভাবে কাজটি করবেন পূর্বেই সে সম্পর্কে একটি নকশা তৈরি করেন। তার এ ধরনের কর্মকাণ্ডে কোম্পানির মালিক তার প্রশংসা করেন।

ক. গৃহ ব্যবস্থাপনার ধাপগুলোর নাম লেখ। ১

খ. পরিকল্পনার ধারণা দাও। ২

গ. আলিজ সাহেবের কর্মপদ্ধতির গৃহ ব্যবস্থাপনার গৃহ ব্যবস্থাপনার কোন পর্যায়টি পরিচালিত হয়? ব্যাখ্যা কর। ৩

ঘ. উদ্দীপকে আলিজ সাহেবের গৃহ ব্যবস্থাপনার ধাপটি অনুসরণে কী কী সুবিধা পাবেন? বিশ্লেষণ কর। ৪

২.▶ প্রোণকুমার একজন গার্মেন্টস ব্যবসায়ী। তিনি তার কাজের সময় ৬ শক্তি সঞ্চয়ের জন্য ব্যবস্থা গ্রহণ করেন। তিনি কম সময়ের অধিক কাজ করার জন্য কাজের তালিকা প্রস্তুত করেন। তিনি ধারাবাহিকভাবে সময় তালিকা অনুযায়ী কাজ করেন। তিনি কাজ সম্পর্কে ধারণা নিয়ে শ্রমিকদের ব্যক্তিগত পছন্দ ও কাজের দক্ষতা অনুযায়ী কাজ বন্টন করেন।

ক. সময় তালিকা কাকে বলে? ১

- খ. শারীরিক ক্লান্তি কিস্তাবে দূর করা যায়? ২
- গ. প্রাণ কুমারের কাজে উদ্দীপকে উল্লিখিত কোন গৃহ ব্যবস্থাপনার প্রতিফলন দেখা যায়? শনাক্ত কর। ৩
- ঘ. উদ্দীপকে প্রাণ কুমারের কাজে কোন কোন বিষয় প্রশংসনীয় করে ব্যাখ্যা কর। ৪
৩. ► ফনীবাবু অনেক খোঁজখবর করে পরিবার নিয়ে থাকার জন্য একটি ক্ল্যাটি ক্রয় করলেন। ক্ল্যাটিটিতে উঠার পর তিনি দেখতে পেলেন সব ঘুমে পর্যাপ্ত আলো-বাতাস চলাচল করে না এবং পানীয়জলের সরবরাহ কম। তার সহকর্মী তাকে বললেন, ক্ল্যাটিটি ক্রয়ের পূর্বে তার কিছু সতর্কতা অবলম্বন করা উচিত ছিল।
- ক. গৃহ মানুষের কোন চাহিদাগুলো পূরণ করে? ১
- খ. আবাসস্থান ব্যবস্থাপনা কী? ২
- গ. ফনীবাবু কোন বিষয়গুলোর দিকে লক্ষ রেখে আবাসস্থল নির্বাচন করলেন বর্ণনা কর। ৩
- ঘ. উদ্দীপকে ফনীবাবুকে তার সহকর্মী যে ক্ষেত্রে সতর্ক হওয়ার পরামর্শ দিলেন সে ব্যাপারে বিশ্লেষণ কর। ৪
৪. ► খলিল অনেক জমিতে ধান চাষ করে যেটুকু আয় করে তা দিয়ে তাদের সংসার কোনো ঝকমভাবে চলে। এ অবস্থা থেকে পরিব্রাণের আশায় খলিলের স্ত্রী তাদের একটুকরা ভিটেমাটির একপাশে মৌসুমী শাকসবজি এবং একপাশে ইঁদুরপি গাশন করে। যা নিজে তাদের মৈনিক চাহিদা পূরণ হয় এবং অতিরিক্ত উৎপাদ প্রকৃ বাজারে বিক্রি করে। বর্তমানে খলিলের পরিবার মোটামুটি সচ্ছল।
- ক. গৃহ প্রাক্কপ কী? ১
- খ. গৃহ প্রাক্কপের ব্যবহারিক উপকারিতাগুলো কী কী? ২

প. খলিলের স্ত্রীর গৃহপ্রাকল্পের সহায়কতার আর পরিবারের সচ্ছন্দতা এনেছে—  
ব্যাখ্যা কর। ৩

ঘ. গৃহ প্রাকল্পের সঠিক ব্যবহার সম্পর্কে তোমার মতামত ব্যক্ত কর। ৪

### খ বিভাগ (বস্ত্র ও বস্ত্র শিল্প)

৫. ► করহান সাহেবের আদুরে মেয়ে লিজার বিয়ের প্রস্তুতি চলছে। বিয়ের অন্য  
আর মামা তাকে ঢাকার একটি ঐতিহ্যবাহী শাড়ি উপহার দিয়ে বলে, শাড়িটি  
ঢাকার জন্মের আগে থেকেই এদেশে প্রচলিত আছে আর এটি মঙ্গলিনের  
উত্তরসূরি নামেও পরিচিত। কথাটি শুনে লিজার অনেক ভালো লাগে।

ক. সিল্ককে কী বলা হয়? ১


খ. ধমর কাপড়ের প্রচলন হয় কিভাবে? ২

গ. লিজার উপহার হিসেবে পাওয়া শাড়িটির বৈশিষ্ট্য ব্যাখ্যা কর। ৩

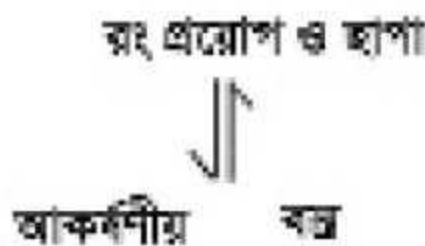
ঘ. উদ্দীপকে উল্লিখিত মামার উক্তি আলোকে শাড়িটির ইতিহাস আলোচনা কর। ৪

৬. ►

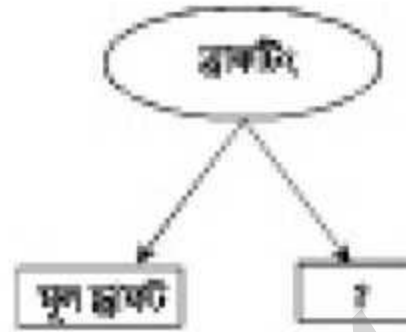
অনুচ্ছেদ : ১ :



অনুচ্ছেদ : ২ :



- ক. মরুভূমি কী? ১
- খ. রং ও ছাপা করতে কী বুঝ? ২
- গ. অনুচ্ছেদ-২ এর পঞ্চাতিতমের মধ্যে পার্থক্য দেখাও। ৩
- ঘ. অনুচ্ছেদ-১ এর প্রারম্ভিক চিহ্নিত রূপের প্রতিনিয়োগ বিস্তারিত আলোচনা কর। ৪
৭. ▶



- ক. টেইলারিং কী? ১
- খ. প্রাচীনকালে কিভাবে সেলাই করা হতো? ২
- গ. উদ্ভীপকে উল্লিখিত? চিত্র দ্বারা নির্দেশিত বিষয়টি ব্যাখ্যা কর। ৩
- ঘ. মূল ভ্রূমিটিকে কি সমতল নমূনার ভ্রূমিট বলা যায়? বিশ্লেষণ কর। ৪
৮. ▶ রেখা আড়াহুড়া করে সকালের নাশতা করতে গিয়ে হঠাৎ চা পড়ে জামায় মাগ লেপে যায়। তার মা বললেন, এ মাগ তোলা সম্ভব হবে। তিনি আরও বললেন, কাপড় থেকে বিভিন্ন রকম মাগ দূর করার কিছু সাধারণ নিয়ম আছে, যা সকলের জন্য প্রয়োজন।
- ক. উৎস অনুসারে মাগ কত প্রকার? ১
- খ. মাগ অপসারণে স্পঞ্জ বলতে কী বোঝ? ২
- গ. রেখার জামা থেকে মাগ অপসারণের উপায় বর্ণনা কর। ৩
- ঘ. রেখার মায়ের বক্তব্যটির যথার্থতা বিশ্লেষণ কর। ৪

দ্রষ্টব্য: সৈব্যতিক অতীকার উত্তরপত্রে ধপ্পের জমিক নম্বরের বিপরীতে ধদন্ত কর্ণসখলিত বৃত্তসমূহ হতে সঠিক/ সর্বোৎকৃষ্ট উত্তরের বৃত্তটি (●) বল পয়েন্ট কলাম দ্বারা সম্পূর্ণ ভরাট কর। প্রতিটি ধপ্পের মান ১।

১. চাষিদি পরিভূষ্টি কোনটি?

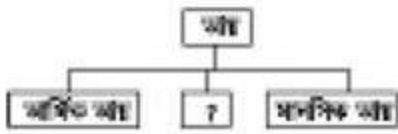
- (ক) মান (খ) পরিকল্পনা  
(গ) লক্ষ্য অর্জন (ঘ) মূল্যবোধ

২. গৃহ ব্যবস্থাপনার প্রথম স্তর কোনটি?

- (ক) নিয়ন্ত্রণ (খ) পরিকল্পনা  
(গ) সংগঠন (ঘ) মূল্যায়ন

৩. সামাজিক ও ধর্মীয় রীতিনীতির আঙ্গিকে কোন মান গড়ে ওঠে?

- (ক) প্রচলিত (খ) পরিমাণগত  
(গ) পুণগত (ঘ) নমনীয়



৪. '?' চিহ্নিত স্থানে কোনটি প্রযোজ্য?

- (ক) প্রত্যক্ষ আয় (খ) প্রকৃত আয়  
(গ) পরোক্ষ আয় (ঘ) পরিবারিক আয়

৫. কাজের ক্ষেত্রে কোন দুটি সম্পদ পরস্পর সম্পর্কযুক্ত?

- (ক) সময় ও শক্তি  
(খ) সময় ও অর্থ  
(গ) সময় ও সুযোগ  
(ঘ) শক্তি ও সুযোগ

নিচের অনুচ্ছেদটি পড়ো ও ৬ ও ৭ নং প্রশ্নের উত্তর দাও:

সুমনা একজন গৃহিণী। সকাল থেকে নুপুর পর্বত-একটানা তারি কাজ করে তিনি হাঁপিয়ে ওঠেন। মাঝে মাঝে অনুস্থ হয়ে পড়েন।

৬. সুমনা কীভাবে কাজ করলে হাঁপিয়ে উঠবেন না?

- (ক) হালকা কাজগুলো আগে করলে  
(খ) ভারি কাজগুলো আগে করলে  
(গ) হালকা কাজের পর ভারি কাজ করলে  
(ঘ) ভারি কাজের পর হালকা কাজ করলে

৭. সুমনার কাজের ক্ষেত্রে কোনটির অভাব পরিলক্ষিত হয়?

i. পরিকল্পনা

ii. দক্ষতা

iii. সময় অধিকা

নিচের কোনটি সঠিক?

- (ক) i ও ii (খ) i ও iii  
(গ) ii ও iii (ঘ) i, ii ও iii

৮. মানসিক ক্রান্তির কেন্দ্রস্থল কী?

- (ক) মাংসপেশি  
(খ) মেজাজ  
(গ) ত্রায়ুতন্ত্র  
(ঘ) বিভিন্ন গ্রন্থি

৯. মানুষ সঞ্চয় করে কেন?

- (ক) সীমিত আয়ের জন্য  
(খ) সীমিত ব্যয়ের জন্য  
(গ) কৃপণতার জন্য  
(ঘ) ভবিষ্যতে ভোগের জন্য

১০. গ্লাস্টিক পেইন্টে পানি মেশালে তাকে কী বলে?

- (ক) সলিউশন (খ) সর্পিশ  
(গ) গ্লাস্টিক ইমালশন (ঘ) ড্রাবার পেইন্ট

১১. আসবাবের স্থায়িত্ব নির্ভর করার ক্ষেত্রে যে উত্তরটি প্রযোজ্য—

- i. আসবাবপত্রের বয়স  
ii. রক্ষণাবেক্ষণ  
iii. সৌন্দর্য

নিচের কোনটি সঠিক?

- (ক) i ও ii (খ) i ও iii  
(গ) ii ও iii (ঘ) i, ii ও iii

১২. মটু বিদেশে থাকে। পাঁচ বছর পর দেশে ফিরে দেখে তাদের গ্রামের নদীটি একটি স্থানমধ্য কারখানা থেকে নির্গত বর্জ্য দ্বারা দূষিত হয়ে পড়ছে। এক্ষেত্রে যে ধরনের সমস্যা সৃষ্টি হতে পারে —

- (ক) শব্দ দূষণ (খ) পানি দূষণ  
(গ) মাটি দূষণ (ঘ) বায়ু দূষণ

১৩. ভূমিকম্পের ফলে সমুদ্রের পানি ফুলে উঠাকে কী বলে?

- ক) টর্নেডো                      ব) ঘূর্ণিঝড়  
গ) সুনামি                        ঘ) জলোচ্ছ্বাস

১৪. কেনারসি শাড়ির নকশা প্রথম আঁকা হয় —

- i. সমতল কাপজে  
ii. ঘর কাটা কাপজে  
iii. গ্রোক কাপজে

নিচের কোনটি সঠিক?

- ক) i ও ii                      ব) i ও iii  
গ) ii ও iii                    ঘ) i, ii ও iii

নিচের অনুচ্ছেদটি পড়ো ১৫ ও ১৬ নং প্রশ্নের উত্তর দাও:

লুম্বিনী আসামের পাদদেশে অবস্থিত মনিপুর রাজ্যের লোক। তারা সুনামগঞ্জে বাস করে। এদের মধ্যে দুটি ভাষা প্রচলিত। ১. বিকুপ্রিয়া ভাষা ২. মৈতৈ ভাষা।

১৫. উদ্দীপকে কোন নৃগোষ্ঠীর উল্লেখ আছে?

- ক) মূনিপুরি  
ব) রাখাইন  
গ) চাকমা  
ঘ) মারমা

১৬. উক্ত নৃগোষ্ঠীর মেয়েদের পোশাকের ক্ষেত্রে উল্লেখযোগ্য —

- i. আঁহি  
ii. সাঁহি  
iii. নাগ

নিচের কোনটি সঠিক?

- ক) i ও ii                      ব) i ও iii  
গ) ii ও iii                    ঘ) i, ii ও iii

১৭. সমাজে ক্যাশনের আবির্ভাব কীভাবে হয়?

- ক) খুব ধীরে                    ব) খুব সহজে  
গ) খুব সদর দিগ্রে            ঘ) খুব দ্রুত

১৮. নিত্য নতুন তত্ত্ব ও বয়নের আবির্ভাব হওয়ার স্বার্থ কারণ কোনটি?

- ক) পোশাকের আধিক্য  
ব) মানুষ ক্যাশন সচেতন হওয়া  
গ) বস্ত্র শিল্পের উন্নয়ন    ঘ) কর্মক্ষেত্রের বিস্তৃতি

১৯. বেশি প্রতিশীল ও বৈচিত্র্য আনে কোন রেখা?

- ক) কোনকুনি রেখা            ব) তির্যক রেখা  
গ) বক্ররেখা                    ঘ) লিপজ্যাগ রেখা

২০. কোন রং মনে প্রশান্তি আনে?

- ক) নীল                            ব) হলুদ  
গ) সবুজ                        ঘ) লাল

২১. নুপুর মূল নকশার সাথে পছন্দমতো ডিজাইন করে এবং প্রয়োজনে রদবদল করে চূড়ান্ত নমুনা প্রস্তুত করে। নুপুরের কাজটি নিচের কোন ড্রাকটিং এর ক্ষেত্রে প্রযোজ্য?

- ক) মূল ড্রাকটিং                ব) সমতল ড্রাকটিং  
গ) প্যাটার্ন ড্রাকটিং        ঘ) ডিজাইন ড্রাকটিং

২২. ডিগামিং করলে কী হয়?

- ক) সহজে বস্ত্র রং করে  
ব) সহজে নকশা করা যায়  
গ) সহজে কাজ করা যায়  
ঘ) সহজে মোম বেগুয়া যায়

২৩. ডিজাইন কীভাবে ফিরে আসে?

- ক) পরিবর্তিত হয়ে            ব) একই রকম হয়ে  
গ) সামঞ্জস্য পূর্ণ হয়ে        ঘ) সীমাবদ্ধ হয়ে

২৪. সুবেল পটুগ্রাখাশীতে থাকে। অত্র এলাকার কোন নৃগোষ্ঠী বাস করে?

- ক) সাঁওতাল                    ব) চাকমা  
গ) রাখাইন                    ঘ) মনিপুরি

২৫. বাংলাদেশের কোন শহরকে লিন্ড সিটি বলা হয়?

- ক) সিলেট  
ব) রাজশাহী  
গ) বরিশাল