

সিলেট বোর্ড-২০১৬

বাংলাদেশ ও বিশ্বপরিচয়

বিষয় কোড :

১ ৫ ০

সময়-২ ঘণ্টা ২০ মিনিট;

সৃজনশীল প্রশ্ন

পূর্ণমান : ৬০

দ্রষ্টব্য : ডান পাশের সংখ্যা প্রশ্নের পূর্ণমান জ্ঞাপক। প্রদত্ত উদ্দীপকগুলো মনোযোগসহকারে পড় এবং সংশ্লিষ্ট প্রশ্নের উত্তর দাও। যে কোনো ৬ টি প্রশ্নের উত্তর দিতে হবে।

১.

তারিখ	সংবিধানের সংশোধনীসমূহ
৬ এপ্রিল ১৯৭৯	পঞ্চম
৬ আগস্ট ১৯৯১	দ্বাদশ
২৭ মার্চ ১৯৯৬	ত্রয়োদশ

- ক. যুক্তফ্রন্ট সরকার কতদিন ক্ষমতায় ছিল? ১
- খ. মুক্তিযুদ্ধে নারীর ভূমিকা বর্ণনা কর। ২
- গ. উদ্দীপকে উল্লিখিত সর্বশেষ সংশোধনীটি ব্যাখ্যা কর। ৩
- ঘ. বাংলাদেশে গণতন্ত্র চর্চায় উপরোক্ত কোন সংশোধনীটি গুরুত্বপূর্ণ ভূমিকা পালন করেছে বলে তুমি মনে কর? বিশ্লেষণ কর। ৪

২.

স্থান	অক্ষাংশ	দ্রাঘিমা	তারিখ	সময়
ক	২০°৩৪' উঃ	৯২°৪৫'	২৫ জুন	অপরাহ্ন ১টা ৩০মি.
খ	২৩.৩০' দঃ	৬০°১৫' পঃ	২৫ জুন	-

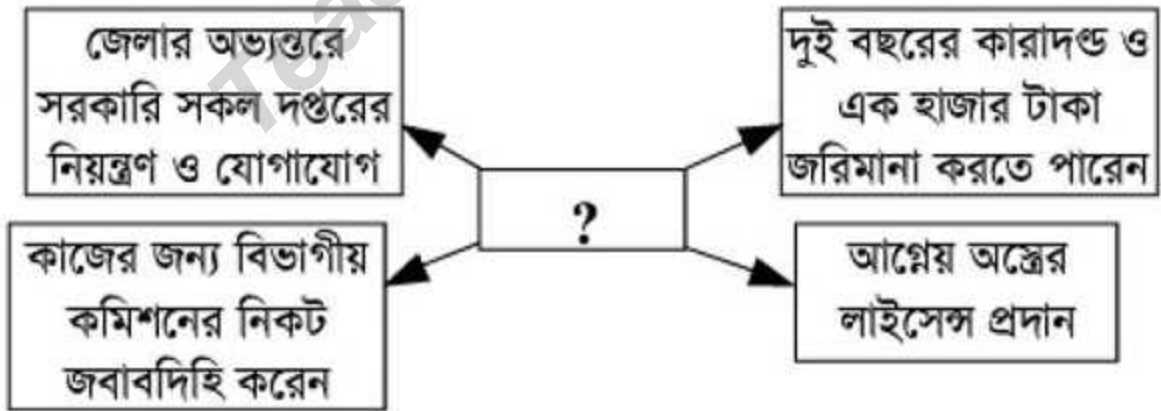
- ক. পৃথিবীর নিকটতম গ্রহ কোনটি? ১
- খ. পূর্ণিমা তিথিতে জোয়ার তীব্র হয় কেন? ২
- গ. উদ্দীপকের সাহায্যে 'খ' স্থানের স্থানীয় সময় নির্ণয় করো। ৩
- ঘ. একই সময় উদ্দীপকের 'ক' ও 'খ' স্থানে ভিন্ন ঋতু পরিলক্ষিত হয়—
বিশ্লেষণ করো। ৪

৩.



- ক. বাংলাদেশের মোট ক্ষেত্রের পরিমাণ কত বর্গমাইল? ১
- খ. ভূমিকম্পকে কেন ভয়াবহ প্রাকৃতিক দুর্যোগ বলা হয়? ২
- গ. উদ্দীপকের 'ক' চিহ্নিত দেশটির জলবায়ুর ওপর চিহ্নিত বায়ুটির প্রভাব ব্যাখ্যা করো। ৩
- ঘ. “বাংলাদেশের কৃষি অনেকাংশেই উক্ত বায়ুর ওপর নির্ভরশীল”— তুমি কি একমত? মতামতের সপক্ষে যুক্তি দাও। ৪

৪.



- ক. কে সংসদীয় পদ্ধতিতে মন্ত্রিসভার মূল স্তম্ভ? ১
- খ. উপজেলা পরিষদের গঠন ব্যাখ্যা করো। ২
- গ. ‘?’ চিহ্নিত স্থানের ব্যক্তিটি কে? তার কার্যাবলি বর্ণনা দাও। ৩
- ঘ. উক্ত ব্যক্তির সঠিক ব্যবস্থাপনাই ঐ অঞ্চলের সার্বিক উন্নতি নির্ভরশীল— বিশ্লেষণ করো। ৪

৫. মাহি বাংলাদেশের সৈনিকদের নিয়ে নির্মিত একটি প্রতিবেদনের অংশবিশেষ দেখার সুযোগ পায়। সেখানে বলা হয়, আফ্রিকাসহ বিশ্বের বিভিন্ন অংশে সাংঘর্ষিক পরিস্থিতি ও দুর্ঘটনার শিকার হয়ে এ পর্যন্ত ৮৮ জন বাংলাদেশি সৈন্য শহিদ হন। মাহি তার বাবার নিকট জানতে চায় বাংলাদেশ এখনও কোনো দেশের সাথে যুদ্ধে লিপ্ত রয়েছে কিনা। বাবা তাকে বিষয়টি বুঝিয়ে বলেন।

- ক. কোন দেশের একটি সড়কের নাম “বাংলাদেশ সড়ক”? ১
- খ. নারীর প্রতি বৈষম্য নিরসনে সিডও সনদের গুরুত্ব বর্ণনা কর। ২
- গ. উদ্দীপকে যে বিষয়টির প্রতি ইজিত করা হয়েছে তা ব্যাখ্যা কর। ৩
- ঘ. উক্ত ক্ষেত্রে বাংলাদেশ নানাভাবে লাভবান হচ্ছে— তুমি কি এর সাথে একমত? মতামতের সপক্ষে যুক্তি দাও। ৪

৬. ঘটনা-১: বাংলাদেশে ২০১৩-১৪ অর্থবছরে মোট জাতীয় আয় অর্জন করে ১৪,৩৩,২২৪ কোটি টাকা এবং ২০১৪-১৫ অর্থবছরে অর্জন করে ১৬,১০,৮৯৫ কোটি টাকা।

ঘটনা-২: বিশ্ব ব্যাংকের ঘোষণা অনুযায়ী বাংলাদেশ এখন নিম্ন মধ্যম আয়ের দেশ। শিল্পায়ন, কৃষি উন্নয়ন, অবকাঠামোগত উন্নয়ন, দারিদ্র্য বিমোচন, জনগণের জীবনযাত্রার মান উন্নয়ন প্রভৃতি ক্ষেত্রে বাংলাদেশ সফলতা দেখাচ্ছে।

- ক. চূড়ান্ত দ্রব্য কাকে বলে? ১
- খ. মিশ্র অর্থব্যবস্থা বলতে কী বোঝ? ২
- গ. উদ্দীপকে প্রদত্ত তথ্যের আলোকে বাংলাদেশ উন্নয়নের কোন মাত্রায় ব্যাখ্যা কর। ৩
- ঘ. বাংলাদেশের অর্থনৈতিক উন্নয়ন বিশ্লেষণে ঘটনা-১ এর তথ্যই যথেষ্ট কিনা— বিশ্লেষণ কর। ৪

৭. ‘ক’ ও ‘খ’ উভয় ব্যাংকই বিনিময়ের মাধ্যম সৃষ্টি করে। তবে ‘খ’ ব্যাংক যে মাধ্যম সৃষ্টি করে তা জনগণ গ্রহণ করতে বাধ্য নয়। আবার উভয়ই ঋণ বিতরণ করে। তবে ‘ক’ ব্যাংক সরাসরি জনগণের মধ্যে ঋণ বিতরণ করে না।

ঋণ প্রদান করে মূলত 'খ' এর মতো ব্যাংকগুলোকে ।

ক. রেজিস্ট্রেশন ফি সরকারের কোন ধরনের রাজস্বের অন্তর্ভুক্ত? ১

খ. সরকার ব্যয় করে কেন? বুঝিয়ে লেখো । ২

গ. উদ্দীপকে 'খ' ব্যাংকের কার্যাবলির বর্ণনা দাও । ৩

ঘ. বাংলাদেশের প্রেক্ষিতে অর্থনৈতিক অগ্রগতিতে 'ক' ব্যাংকের ভূমিকা মূল্যায়ন করো । ৪

৮. কবির সাহেব তার বিবাহিত দুই ছেলে ও তাদের স্ত্রী-সন্তানদের নিয়ে একই পরিবারে বসবাস করছেন । অন্যদিকে তার প্রতিবেশী হান্নান সাহেব স্ত্রীসহ অবিবাহিত তিন ছেলেকে নিয়ে বসবাস করছেন । পারিবারিক বিভিন্ন কাজে তারা প্রায়ই ব্যস্ত থাকেন ।

ক. সামাজিকীকরণের ব্যাপ্তি কত? ১

খ. সামাজিকীকরণের উপাদান হিসেবে মূল্যবোধের ব্যাখ্যা দাও । ২

গ. কবির সাহেবের পরিবারটিকে যৌথ পরিবারের পাশাপাশি বর্ধিত পরিবারও বলা যায়— ব্যাখ্যা কর । ৩

ঘ. পরিবার দুটির সুবিধা-অসুবিধার একটি তুলনামূলক চিত্র বিশ্লেষণ করো । ৪

৯. নূরীর বয়স তের বছর । সে স্থানীয় একটি চাতালে শ্রমিকের কাজ করে । তার ছোট ভাই রাতুল শহরে একটি কারখানায় মেকানিকের কাজ করে । চাতালের কাজ শেষে বাড়ি ফিরে নূরীকে বাবা-মায়ের সাথে অন্যান্য কাজেও হাত দিয়ে হয় । অথচ তাদের বাবা-মা রাতুলের সুযোগ-সুবিধার ব্যাপারে বেশ সজাগ । অপেক্ষাকৃত ভালো খাবারটা তুলে রাখা হয় রাতুলের জন্যেই ।

ক. AIDS-এর পূর্ণরূপ লেখো । ১

খ. জিজ্ঞাসা বলতে কী বোঝ? ২

গ. উদ্দীপকে ইজিতকৃত প্রথমোক্ত সামাজিক সমস্যাটির কারণ ব্যাখ্যা করো । ৩

ঘ. দ্বিতীয়োক্ত সামাজিক সমস্যাটি প্রতিরোধে সামাজিকভাবে কী ধরনের ব্যবস্থা গ্রহণ করা যেতে পারে বলে তুমি মনে কর? বিশ্লেষণ করো । ৪

[বিশেষ দ্রষ্টব্য: সরবরাহকৃত বহুনির্বাচনি অভীক্ষার উত্তরপত্রে প্রদত্ত বর্ণসম্বলিত বৃত্তসমূহ হইতে সঠিক/সর্বোৎকৃষ্ট উত্তরের বৃত্তটি বল পয়েন্ট কলাম দ্বারা সম্পূর্ণ ভরাট কর প্রতিটি প্রশ্নের মান ১। সকল প্রশ্নের উত্তর দিতে হবে।]

১. রেসকোর্স ময়দানের বর্তমান নাম কী?
 ক) রমনা পার্ক খ) শিশু পার্ক
 গ) বোটানিক্যাল গার্ডেন ঘ) সোহরাওয়ার্দী উদ্যান
২. পূর্ব পাকিস্তানের প্রাদেশিক পরিষদের আসন সংখ্যা কত ছিল?

- ক) ৩৩০ আসন খ) ৩০৯ আসন
 গ) ৩৩৩ আসন ঘ) ৩১০ আসন

নোট: সঠিক উত্তর হবে ৩০০ আসন।

৩. ২৫ মার্চের পৈশাচিক গণহত্যার নাম কী ছিল?

- ক) অপারেশন জ্যাকপট
 খ) অপারেশন ফ্রিডম
 গ) কিলিং
 ঘ) অপারেশন সার্চলাইট

৪. যুক্তফ্রন্টের দলগুলো —

- i. আওয়ামী লীগ
 ii. বাংলাদেশ জাতীয়তাবাদী দল
 iii. কৃষক শ্রমিক দল

নিচের কোনটি সঠিক?

- ক) i ও ii খ) i ও iii
 গ) ii ও iii ঘ) i, ii ও iii

৫. কোনটি মঙ্গলের উপগ্রহ?

- i. ডিমোস ii. ক্যারন
 iii. ফেবোস

নিচের কোনটি সঠিক?

- ক) i খ) ii
 গ) iii ঘ) i, iii

৬. কোন ধরনের পরিবার বাংলাদেশে দেখা যায় না?

- ক) একপত্নী খ) বহুপত্নী
 গ) বহুপতি ঘ) যৌথ পরিবার

৭. বৃহস্পতির ব্যাস কত?

- ক) ১,৪২,৮০০ কি.মি. খ) ১, ২৪,৮০০ কি.মি.
 গ) ১,২৪,৮০৭ কি.মি. ঘ) ১,৪২,৮০৮ কি.মি.

৮. বর্ষাকালের মেয়াদ—

- ক) জুন থেকে অক্টোবর পর্যন্ত
 খ) মার্চ থেকে নভেম্বর পর্যন্ত
 গ) মার্চ থেকে মে পর্যন্ত
 ঘ) জুন থেকে নভেম্বর পর্যন্ত

৯. কোন নদী সিকিমের পাহাড়ি এলাকা থেকে উৎপত্তি?

- ক) তিস্তা খ) মেঘনা
 গ) পদ্মা ঘ) কর্ণফুলী

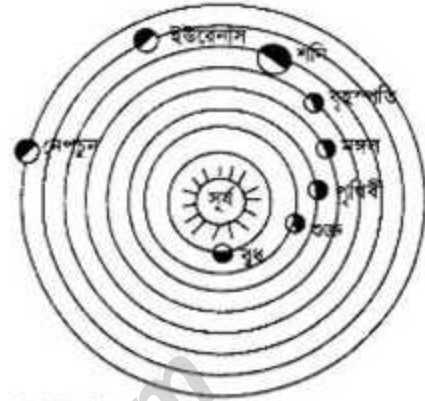
১০. আইনের উৎস কয়টি?

- ক) ৫টি খ) ৬টি
 গ) ৭টি ঘ) ৮টি

১১. গণতন্ত্রে সকল ক্ষমতার উৎস কে?

- ক) সরকার খ) রাষ্ট্রপতি
 গ) প্রধানমন্ত্রী ঘ) জনগণ

নিচের চিত্রটি থেকে ১২-১৪নং প্রশ্নের উত্তর দাও:



১২. এই চিত্রটি —

- i. পৃথিবী ii. মহাকাশ iii. সৌরজগত
 নিচের কোনটি সঠিক?

- ক) i খ) ii
 গ) iii ঘ) ii ও iii

১৩. কোন গ্রহটি সন্ধ্যায় পশ্চিম আকাশে সন্ধ্যাতারা রূপে এং ভোরে পূর্ব আকাশে শুক্তারা রূপে দেখতে পাই?

- ক) শুক্ত খ) শনি
 গ) বুধ ঘ) বৃহস্পতি

১৪. কেবল তখনই মঙ্গলে বসবাস সম্ভব—

- ক) গড় তাপমাত্রা হিমাঙ্কের নিচে
 খ) গড় তাপমাত্রা হিমাঙ্কের সমান
 গ) গড় তাপমাত্রা হিমাঙ্কের উপরে
 ঘ) গড় তাপমাত্রা ও অক্সিজেন দু'য়ের মধ্যে সংগতি

১৫. কোন সালে নারী দিবস ঘোষিত হয়েছিল?

- ক) ১৯৭০ খ) ১৯৭৩ গ) ১৯৭৫ ঘ) ১৯৭৯

নোট: সঠিক উত্তর হবে ১৯৭৭ সালে।

১৬. অর্থনৈতিক ব্যবস্থা কত প্রকার?

- ক) ২ খ) ৩ গ) ৪ ঘ) ৫

১৭. বাংলাদেশের কেন্দ্রীয় ব্যাংক কোনটি?

- ক) সোনালী ব্যাংক খ) রূপালী ব্যাংক
 গ) পূবালী ব্যাংক ঘ) বাংলাদেশ ব্যাংক

১৮. পরোক্ষ কর কী?

- ক) ভূমি রাজস্ব খ) মূল্য সংযোজন কর
 গ) বিক্রয় কর ঘ) আয়কর

১৯. সামাজিক পরিবর্তন হচ্ছে —

- i. সমাজ ii. সামাজিক কাঠামো
 iii. পুরুষ ও নারী

নিচের কোনটি সঠিক?

- ক) i খ) ii
 গ) iii ঘ) i, ii ও iii

২০. খনিজ উৎস হলো—

- i. গ্যাস ii. মাছ iii. কয়লা

নিচের কোনটি সঠিক?

- ক i ও ii খ i ও iii
গ ii ও iii ঘ i, ii ও iii

২১. কোনটিতে এইডস ছড়ায়?

- ক কাপ খ গ্লাস
গ কাপড়

ঘ এইডস ভাইরাসযুক্ত সিরিঞ্জ

২২. নাগরিকের সামাজিক অধিকার—

- i. সম্পত্তির অধিকার ii. চলাফেরার অধিকার
iii. জীবনধারণের অধিকার

নিচের কোনটি সঠিক?

- ক i খ ii
গ i ও ii ঘ i ও iii

২৩. জনাব দুলাল তার উক্ত অয় ব্যাংক আমানত রাখতে চায় যেন সে যে কোনো সময়ে টাকা উত্তোলন করতে পারেন।

এমতাবস্থায় সে কোন ধরনের আমানত খুলবে?

- ক তলবি আমানত খ স্থায়ী আমানত
গ মেয়াদি আমানত ঘ চলতি আমানত

২৪. যে পদ্ধতিতে একটি শিশু ক্রমান্বয়ে ব্যক্তিত্বসম্পন্ন সামাজিক মানুষে পরিণত হয় তাকে বলে—

- ক সমাজ কাঠামো খ সামাজিকীকরণ
গ সংস্কৃতি ঘ সভ্যতা

২৫. কোনটি ব্যতীত অর্থ সামাজিক উন্নয়ন সম্ভব নয়?

- ক যোগাযোগ খ স্বাস্থ্য
গ শহরায়ন ঘ শিল্পায়ন

২৬. স্থানীয় সরকারের প্রয়োজন হয়?

- i. নেতৃত্বের বিকাশে
ii. স্থানীয় উন্নয়ন ত্বরান্বিতকরণে
iii. গণতন্ত্র নিশ্চিতকরণে

নিচের কোনটি সঠিক?

- ক i ও ii খ iii
গ ii ও iii ঘ i, ii ও iii

২৭. ইউনেস্কো কাজ করে—

- i. বিজ্ঞান ii. সংস্কৃতি iii. খাদ্য

নিচের কোনটি সঠিক?

- ক i ও ii খ i ও iii
গ ii ও iii ঘ i, ii ও iii

২৮. কোন সংস্থা আন্তর্জাতিক আদালতের বিচারক নির্বাচন করে?

- ক সাধারণ পরিষদ খ সামাজিক পরিষদ
গ নিরাপত্তা পরিষদ

ঘ অর্থনৈতিক ও সামাজিক পরিষদ

২৯. কোনটি রাজনৈতিক দলের কাজ?

- ক গঠনমূলক বিরোধিতা খ আইনের প্রয়োগ
গ আইনের ব্যাখ্যা ঘ সংবিধান রচনা করা

৩০. বাংলাদেশের স্রোতজ বনভূমির মোট আয়তন কত?

- ক ৪,১৯২ বর্গ কি.মি. খ ৪,২৯২ বর্গ কি.মি.
গ ৬,১৯২ বর্গ কি.মি. ঘ ৮,১৯২ বর্গ কি.মি.

৩১. ওজেনস্তরের আনুমানিক গভীরতা কত?

- ক ৮-১০ কি.মি. খ ১২-১৬ কি.মি.
গ ৫-৬ কি.মি. ঘ ২-৩ কি.মি.

৩২. বাংলাদেশ একটি উন্নয়নশীল দেশ। এই ধরনের

দেশসমূহের অর্থনৈতিক বৈশিষ্ট্য হলো—

- i. কৃষিভিত্তিক প্রধান অর্থনীতি
ii. প্রাকৃতিক ও মানবসম্পদের ব্যবহার
iii. ব্যাপক বেকারত্ব

নিচের কোনটি সঠিক?

- ক i ও ii খ i ও iii
গ ii ও iii ঘ i, ii ও iii

৩৩. প্রত্যেক দেশের কেন্দ্রীয় ব্যাংক প্রতিনিধি হিসেবে কাজ করে—

- i. আই.এম.এফ ii. বিশ্ব ব্যাংক
iii. আই.ডি.বি

নিচের কোনটি সঠিক?

- ক i, iii খ i, ii
গ ii, iii ঘ i, ii ও iii

৩৪. কখন মুজিবনগর সরকার গঠিত হয়েছিল?

- ক ১০ই এপ্রিল, ১৯৭১ খ ১৭ই এপ্রিল, ১৯৭২
গ ৯ই এপ্রিল, ১৯৭২ ঘ ৭ই এপ্রিল, ১৯৭২

৩৫. কখন বাংলাদেশের সংবিধান গৃহীত হয়?

- ক ৪ নভেম্বর, ১৯৭২ খ ১৩ নভেম্বর, ১৯৭২
গ ১৪ নভেম্বর, ১৯৭২ ঘ ১২ নভেম্বর, ১৯৭২


৩৬. নারীর প্রতি এসিড নিক্ষেপের কারণ হলো—

- i. প্রেম নিবেদন ii. নৈতিক প্রস্তাব প্রত্যাখ্যান
iii. সহনভূতি

নিচের কোনটি সঠিক?

- ক i, ii খ ii, iii
গ i, iii ঘ i, ii ও iii

৩৭. সৌরজগতের চিত্র—



A চিহ্নিত গ্রহটি সূর্যের চারিদিকে পরিক্রমণ করতে কত দিন সময় লাগে?

- ক ৭২ দিনে খ ৮৮ দিন
গ ৯২ দিন ঘ ১০২ দিন

৩৮. কোনটি বাংলাদেশের সর্বোচ্চ আইন?

- ক আইনসভা কর্তৃক প্রণীত আইন
খ নৈতিক আইন গ সামাজিক আইন
ঘ সংবিধান

নিচের অনুচ্ছেদটি পড় এবং ৩৯ ও ৪০নং প্রশ্নের উত্তর দাও:
ফিরোজা বেগম গাজীপুরের নিকট একটি শহরের বস্তিতে বাস করে। সে খুব দরিদ্র। গৃহস্থালি কাজকর্ম ছাড়াও সে গার্মেন্টস কারখানায় কাজ করে। যদিও সে গরিব ও অশিক্ষিত কিন্তু সে তার সন্তানদের লেখাপড়ায় অত্যন্ত যত্নশীল।

৩৯. ফিরোজা বেগমকে সামাজিক পরিবর্তনের কোন উপাদানটি সাহায্য করেছে?

- ক শিক্ষা খ শিল্পায়ন
গ প্রযুক্তি ঘ যোগাযোগ

৪০. ফিরোজা বেগম কীভাবে সামাজিক পরিবর্তনে অংশ গ্রহণ করে?

- i. গৃহস্থালি কাজকর্ম করে
ii. শিল্প কারখানায় কাজ করে
iii. সন্তানদের লেখাপড়ায় যত্নশীলতার মাধ্যমে

- নিচের কোনটি সঠিক?
ক i ও ii খ i ও iii
গ ii ও iii ঘ i, ii ও iii

উত্তর	১	২	৩	৪	৫	৬	৭	৮	৯	১০	১১	১২	১৩	১৪	১৫	১৬	১৭	১৮	১৯	২০
	২১	২২	২৩	২৪	২৫	২৬	২৭	২৮	২৯	৩০	৩১	৩২	৩৩	৩৪	৩৫	৩৬	৩৭	৩৮	৩৯	৪০